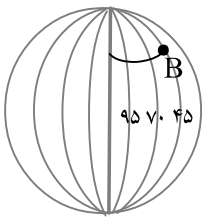


بخش اختیاری: دانش آموز عزیز لطفا در این بخش فقط دو فصل را انتخاب کنید و به سوالات همان دو فصل پاسخ دهید.

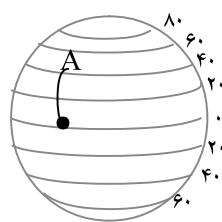
۱- کدام یک از سال‌های زیر روزهای بیشتری در تقویم دارد؟

- الف) سال خورشیدی  ب) سال رسمی  ج) سال کیبسه  د) سال واقعی

۲- چگونه ممکن است اذان ظهر در شمال و جنوب ایران در دو شهر متفاوت، در یک زمان پخش شود؟



نقطه B: .....



نقطه A: .....

۳- طول و عرض جغرافیایی نقاط را با توجه به شکل زیر بنویسید.

۴- کدام یک از عوامل زیر، جزء عوامل طبیعی - بیرونی تغییر دهنده شکل ناهمواری‌هاست؟

- الف) چین خوردگی  ب) هوازدگی  ج) گسل‌ها  د) کوه‌های آتشفشانی

۵- به نظر شما، برای حفاظت از اقیانوس‌ها، که یکی از منابع مهم تأمین غذای انسان است چه باید کرد؟ (دو راه حل)

۶- با توجه به کلمات داده شده، کلمه‌ی درست را در مقابل تعریف آن بنویسید. (یک مورد اضافه است)

فلات	سنگ کره	ورد سپهر
------	---------	----------

الف) بخش خارجی کره زمین که حالت جامد دارد:

ب) هرچه از سطح زمین بالاتر می‌رویم دمای هوا در این لایه کم می‌شود:

۷- برخی از طرفداران محیط زیست، استفاده از وسایل تزئینی که از عاج فیل ساخته می‌شود را تحریم کرده‌اند و آنها را نمی‌خرند، یک دلیل بیاورید که کار آنها درست است؟

۸- سه گروه گردشگر می‌خواهند به سه زیست بوم متفاوت سفر کنند با توجه به توضیحات، هریک از این گروه‌ها چه زیست بومی را انتخاب کرده‌اند؟

گروه اول؛ زیست بومی که پوشیده از یخ و برف است:

گروه دوم؛ زیست بومی که دارای علفزار با درختان تک و منفرد است:

گروه سوم؛ زیست بومی که دارای آب و هوای گرم و خشک و بارندگی بسیار کم است:

۹- تفاوت میزان مولید و میزان مرگ و میر، رشد منفی جمعیت را نشان می دهد.  درست  نادرست

۱۰- جدول زیر را کامل کنید.

داخلی یا خارجی	اجباری یا اختیاری	گروه های مهاجر
		مهاجرت افراد از شهر به روستا
		مهاجرت مردم فلسطین به کشورهای همسایه

فصل چهارم

۱۱- از بین عوامل نابرابری در جهان که در زیر آمده کدام یک جز عوامل داخلی و کدام یک از علل خارجی نابرابری است؟

- (الف) استعمار:  
(ب) فرهنگ و باورهای غلط:  
(ج) اشغال نظامی:  
(د) نداشتن پشتکار و اراده برای تغییر:

۱۲- من کیستم؟ .....

«از صوفیان معروف زمان خود بودم که پیروان و طرفداران زیادی داشتم، خانقاهم در اردبیل مورد توجه مردم بود.»

۱۳- چرا در عصر صفوی عالمان و اندیشمندان بزرگی پرورش یافته و آثار ارزشمند علمی و مذهبی بسیار نوشته شده است؟ (یک دلیل بیاورید)

فصل پنجم

۱۴- با توجه به اقدامات سیاسی - اقتصادی شاه اسماعیل، شاه تهماسب و شاه عباس به نظر شما مردم ایران در دوره حکومت کدام یک از این شاهان شرایط بهتری داشتند؟ (یک دلیل بیاورید)

۱۵- عباس میرزا دستور داد کتاب هایی را در موضوع تاریخ کشورهای اروپایی به فارسی ترجمه کنید.

درست  نادرست

۱۶- کدام یک از شاهان زیر به صلح و آسایش و آرامش مردم اهمیت داده و از ناامنی و شورش های داخلی جلوگیری می کرد؟

(الف) نادر شاه افشار  (ب) کریم خان زند  (ج) لطفعلی خان زند  (د) آقا محمدخان قاجار

فصل ششم

۱۷- به سوالات زیر در ارتباط با نهضت تنباکو پاسخ دهید:

(الف) این امتیاز در زمان سلطنت کدام شاه قاجار به تالبوت واگذار شد؟  
(ب) موارد امتیاز چه بود؟

بخش اجباری: دانش آموز عزیز لطفاً به همه سوالات از ۱۸ تا ۳۳ که شامل فصل هفتم تا دوازدهم می‌باشد، پاسخ دهید.

۱۸- کدام یک از موارد زیر از نتایج کودتای ۲۸ مرداد سال ۱۳۳۲ است؟

الف) سرنگونی احمد شاه  (ب) روی کار آمدن رضا شاه

ج) سرنگونی دولت مصدق  (د) روی کار آمدن محمد رضا شاه

۱۹- علت قیام ۱۹ دی ماه مردم قم، اعتراض به توهین به امام در روزنامه اطلاعات بود. درست  نادرست

۲۰- هریک از موارد زیر توسط کدام شاه قاجار روی داده است؟ (ارتباط دادنی)

الف) مظفر الدین شاه (۱) به توپ بستن مجلس

ب) محمد علی شاه قاجار (۲) امضای فرمان مشروطه

(۳) تأیید نکردن قرار داد ۱۹۱۹

۲۱- طبق قرارداد ۱۹۰۷، انگلستان و روسیه ایران را میان خود تقسیم کردند. هدف این دو کشور استعمارگر از این اقدام چه بود؟

۲۲- گروه‌های ضد انقلاب داخلی با حمایت دشمنان خارجی، بر علیه انقلاب و مردم، چه اقداماتی انجام دادند؟ (۱ مورد)

۲۳- آمریکا، دولت ایران را مجبور به قبول کاپیتولاسیون در دوره‌ی سلطنت محمد رضا شاه کرد.

الف) طبق این لایحه چه امتیازی به مأموران نظامی آمریکا داده شد؟

ب) چرا رژیم پهلوی پس از سخنرانی اعتراض آمیز امام نسبت به این لایحه، ایشان را تبعید کرد؟

۲۴- درستی یا نادرستی جملات زیر را مشخص کنید.

الف) زبان گفتاری و نوشتاری ما، نقش هنجاری دارند. درست  نادرست

ب) فرهنگ نقش مهمی در افزایش بهره‌وری یک جامعه دارد. درست  نادرست

۲۵- کدام یک از موارد زیر نشانه داشتن تفکر بهره‌وری در محیط مدرسه است؟

الف) نقاشی و کنده‌کاری بر روی میز و نیمکت‌های کلاس

ب) روشن گذاشتن چراغ‌های کلاس در زنگ‌های تفریح

ج) روشن ماندن وسایل سرمایشی خارج از ساعات آموزشی

د) بستن کامل و درست شیرهای آبخوری بعد از استفاده

۲۶- هدف از تولید از دیدگاه اسلام چیست؟

الف) کسب سود بیشتر  (ب) بهره‌وری از طبیعت

ج) رفع نیازهای ضروری  (د) افزایش سرمایه و ثروت

۲۷- جدول زیر را کامل کنید.

			گ
			آ
			گ

۱←

۱- اطاعت از والدین تنها در صورتی جایز نیست که به

۲←

..... و نافرمانی از خدا دستور دهند.


۳←

۲- از دیدگاه قرآن مهم‌ترین هدف ازدواج برقراری

..... و محبت بین زن و مرد است.

۳- یکی از روش‌های اجتماعی کردن اعضای خانواده ..... است.

۲۸- نمودار زیر را کامل کنید.



مهم‌ترین رکن  
حکومت جمهوری  
اسلامی ایران

مهم‌ترین وظایف

عفو یا تخفیف مجازات محکومان

بخش مدنی

۲۹- شما به عنوان یک دانش‌آموز پایه‌ی نهم دارای مجموعه‌ای از ویژگی‌ها و خصوصیات اخلاقی و جسمانی هستید.

الف) یک ویژگی اکتسابی، هویت اجتماعی خود را بنویسید.

ب) یک ویژگی از هویت فردی - اخلاقی و روانی خود را بنویسید.

۳۰- در بعضی مواقع والدین و فرزندان نوجوانان انتظارات یکدیگر را برآورده نمی‌کنند. شما چه پیشنهادی برای رفع این مشکل دارید؟ (۱ مورد)

۳۱- به عنوان یک شهروند ایرانی یک مورد از حقوق و یک مورد از تکالیف خود را بنویسید.

تکالیف:

حقوق:

۳۲- بنا به توصیه مقام معظم رهبری برای حل مشکلات اقتصادی کشور باید سیاست اقتصادی مقاومتی را در پیش بگیریم. منظور از اقتصاد مقاومتی چیست؟ (۲ مورد)

۳۳- شما به عنوان یک نوجوان ایرانی در سال ۱۴۰۰ می‌توانید در انتخابات ریاست جمهوری شرکت کنید. شما بعد از انجام تحقیقات لازم و توجه به برنامه‌های ارائه شده نامزدهای انتخاباتی، بهترین گزینه از نظر خودتان را انتخاب نموده و در روز رأی‌گیری به نامزد منتخب خود رأی می‌دهید. شما می‌دانید اگر نامزد منتخب شما اکثریت آرا را نیابد با احترام به رأی اکثریت مردم ایران، رئیس‌جمهور منتخب را پذیرفته و در جهت آبادی و پیشرفت ایران عزیز در هر جایگاهی که هستید نهایت تلاش خود را می‌کنید. با توجه به متن فوق، یک هنجار و یک ارزش مشخص کنید.

ارزش:

هنجار: